



केन्द्रीय रिजर्व पुलिस बल CENTRAL RESERVE POLICE FORCE

Test Date	24/02/2023
Test Time	12:30 PM - 02:00 PM
Subject	Head Constable Ministerial

Section : Hindi Language

Q.1 इनमें संभाव्य भविष्य काल का वाक्य नहीं है-

- Ans
- A. वह कमाए तो खाए।
 - B. हो न हो, राम जाने।
 - C. अब मैं क्या करूँ?
 - D. मैं यह बात राजा को सुनाऊँ।

Question ID : 630680177743

Status : Answered

Chosen Option : C

Q.2 तुम तुम्हारे घर चले जाओ। वाक्य के किस अंश में त्रुटि है?

- Ans
- A. तुम
 - B. चले जाओ
 - C. तुम्हारे
 - D. घर

Question ID : 630680177729

Status : Answered

Chosen Option : C

Q.3 पदक्रम की दृष्टि से कौनसा वाक्य शुद्ध है?

- Ans
- A. चार विद्यालय के लड़के पकड़े गए।
 - B. प्रत्येक भारत के राज्य में एक मुख्यमंत्री है।
 - C. कई नगर के वकील ऐसा कहते हैं।
 - D. पानी का एक गिलास दीजिए।

Question ID : 630680177736

Status : Answered

Chosen Option : D

Q.4 'किसी को जीतने की चाह' इस वाक्यांश के लिए सार्थक शब्द है-

- Ans A. जिजीविषु
 B. जिगीषु
 C. जिगीषा
 D. जिजीविषा

Question ID : 630680177742
Status : Answered
Chosen Option : D

Q.5 इनमें 'रियायत' शब्द का पर्यायवाची नहीं है-

- Ans A. कमी
 B. अनुग्रह
 C. प्रत्यर्पण
 D. अनुकंपा

Question ID : 630680177725
Status : Answered
Chosen Option : D

Q.6 'आपा खोलने से ही प्रतिष्ठा मिलेगी।' वाक्य में 'आपा खोलना' इस मुहावरे का अशुद्ध प्रयोग हुआ है। अतः वाक्य की पूर्ति के लिए सर्वाधिक उपयुक्त मुहावरा कौनसा है?

- Ans A. आपे से बाहर होना
 B. आपाधापी पड़ना
 C. आपे में न होना
 D. आपा तजना

Question ID : 630680177732
Status : Answered
Chosen Option : A

Q.7 क्रम की दृष्टि से कौनसा वाक्य सही है?

- Ans A. खाई रोटी मैंने।
 B. रोटी मैंने खाई।
 C. मैंने रोटी खाई।
 D. नाव में नदी है।

Question ID : 630680177737
Status : Answered
Chosen Option : C

Q.8 'खेत खाए गदहा, मार खाए खरगोश'। अधोरेखित स्थान पर उचित विकल्प का चयन कर लोकोक्ति पूर्ण कीजिए।

- Ans
- A. मार खाए पपीहा
 - B. मार खाए हाथी
 - C. मार खाए लोमड़ी
 - D. मार खाए जुलाहा

Question ID : 630680177733
Status : Answered
Chosen Option : D

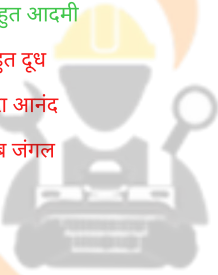
Q.9 किस विकल्प में 'हारिल' का समानार्थी शब्द नहीं है?

- Ans
- A. हरीत
 - B. गलश्री
 - C. हारल
 - D. सुग्गा

Question ID : 630680177728
Status : Answered
Chosen Option : D

Q.10 इनमें कौनसा अनिश्चित संख्यावाचक विशेषण है?

- Ans
- A. बहुत आदमी
 - B. बहुत दूध
 - C. पूरा आनंद
 - D. सब जंगल



Question ID : 630680177744
Status : Answered
Chosen Option : A

Q.11 'दरवाजे पर ____ झूमना'। मुहावरे में रिक्त स्थान के लिए उपयुक्त विकल्प कौनसा है?

- Ans
- A. हवा
 - B. आँख
 - C. माला
 - D. हाथी

Question ID : 630680177734
Status : Answered
Chosen Option : A

Q.12 हमें यह स्मरण रखना चाहिए कि हर स्वतंत्रता के साथ एक ____ का प्रश्न जुड़ा हुआ है। रिक्त स्थान की पूर्ति के लिए कौनसा शब्द सर्वाधिक उपयुक्त है?

- Ans A. दायित्व
 B. दया
 C. निरपेक्षता
 D. न्याय

Question ID : 630680177739
Status : Answered
Chosen Option : A

Q.13 इनमें त्रुटि युक्त वाक्य नहीं है-

- Ans A. कोई भी होगा, तब काम चल जाएगा।
 B. युद्ध द्वारा देश पर संकट छाता है।
 C. सुरेश से यह कार्य संपन्न हुआ।
 D. कोई होगा, तब काम चल जाएगा।

Question ID : 630680177731
Status : Answered
Chosen Option : B

Q.14 'डर है तो नर, नहीं तो खंडहर'। अधोरेखित स्थान पर उचित शब्द या खंड बदल कर लोकोक्ति पूर्ण कीजिए।

- Ans A. पद है तो नर
 B. ज़र है तो नर
 C. जल है तो नर
 D. रोजी है तो नर

INDIA

Question ID : 630680177735
Status : Answered
Chosen Option : B

Q.15 इनमें कौनसा शब्द अशुद्ध नहीं है?

- Ans A. प्रज्वलित
 B. प्रज्वलित
 C. उज्वल
 D. आजीवीका

Question ID : 630680177730
Status : Answered
Chosen Option : C

Q.16 इनमें 'सृष्टि' का विलोम शब्द है-

- Ans A. विघटन
 B. व्यास
 C. संहार
 D. व्यष्टि

Question ID : 630680177726
Status : Answered
Chosen Option : D

Q.17 'जिसका निवारण न हो सकता हो' इस वाक्यांश के लिए कौनसा शब्द सार्थक है?

- Ans A. अनिर्णित
 B. अनुगामी
 C. अनिर्वचनीय
 D. अनिवार्य

Question ID : 630680177741
Status : Answered
Chosen Option : A

Q.18 'चापलूसी' का समानार्थी शब्द कौनसा है?

- Ans A. लल्लोचप्पो
 B. चाटुकार
 C. प्रवंचना
 D. पाजीपन

Question ID : 630680177727
Status : Answered
Chosen Option : B

Q.19 बंदूक एक बहुत ही उपयोगी _____ है। रिक्त स्थान की पूर्ति के लिए कौनसा शब्द सर्वाधिक उपयुक्त है?

- Ans A. सशस्त्र
 B. अस्त्र
 C. शस्त्र
 D. साधन

Question ID : 630680177738
Status : Answered
Chosen Option : C

Q.20 पद क्रम के अनुसार कौनसा वाक्य सही है?

- Ans A. मित्र को चिट्ठी भेजी हमने अपने।
 B. चतुर मोहन जान पड़ता है।
 C. चिट्ठी भेजी मित्र को हमने अपने।
 D. हमने अपने मित्र को चिट्ठी भेजी।

Question ID : 630680177740
Status : Answered
Chosen Option : D

Comprehension:

निम्नलिखित गद्यांश को पढ़िये और दिये गए प्रश्नों के उत्तर दीजिये।

'न जाने कब से मनुष्य के अंतर से 'रात दिन रात' निकलती रही; मैं अंधकार से घिरगया हूँ, मुझे प्रकाश की ओर ले चलो - 'तमसोमा ज्योतिर्गमय।' परंतु यह पुकारशायद सुनी नहीं गई - 'होत न श्याम सहाय।' प्रकाश और अंधकार की आँखमिचौनी चलतीही रही, चलती ही रहेगी। यह तो विधि का विधान है। कौन टाल सकता है इसे। किस दिन एक शुभ मुहूर्त में मनुष्य ने मिट्टी के दीये, रुई की बाती, चकमक की चिनगारी और बीजों से निकलनेवाले स्रोत का संयोग देखा। अंधकार को जीता जा सकता है। दिया जलाया जा सकता है। घने अंधकार में डूबी धरती को आंशिक रूप में आलोकित किया जा सकता है। अंधकार से जूझने के संकल्प की जीत हुई। तब से मनुष्य ने इस दिशा में बड़ी प्रगति की है, पर वह आदिम प्रयास क्या भूलने की चीज है? वह मनुष्य की दीर्घकालीन कातर प्रार्थना का उज्ज्वल फल था। दीवाली याद दिला जाती है उस ज्ञानलोक के अभिनव अंकुर की, जिसने मनुष्य की कातर प्रार्थना को दृढ़ संकल्प का रूप दिया था- अंधकार से जूझना है, विघ्न-बाधाओं की उपेक्षा करके, संकटों का सामना करके। इधर कुछ दिनों से शिथिल स्वर सुनाई देने लगे हैं। लोग कहते सुने जाते हैं- अंधकार महाबलवान है, उससे जूझने का संकल्प मूढ़ आदर्श मात्र है। सोचता हूँ, यह क्या संकल्प शक्ति का पराभव है? क्या मनुष्यता की अवमानना है? दीवाली आकर कह जाती है, अंधकार से जूझने का संकल्प ही सही यथार्थ है। मृगमरीचिका में मत भटको। अंधकार के सैकड़ों परत हैं। उससे जूझना ही मनुष्य का मनुष्यत्व है। जूझने का संकल्प ही महादेवता है। उसी को प्रत्यक्ष करने की क्रिया को लक्ष्मी की पूजा कहते हैं।

SubQuestion No : 21

Q.21 इनमें मनुष्य की दीर्घकालीन कातर प्रार्थना का उज्ज्वल फल कौनसा है?

- Ans A. अंधकार से जूझने के संकल्प की जीत।
 B. अंधकार से जूझने के संकल्प की मूढ़ता।
 C. अंधकार की हार और संकल्प।
 D. प्रकाश और अंधकार की आँखमिचौनी।

Question ID : 630680177747

Status : Answered

Chosen Option : A

Comprehension:

निम्नलिखित गद्यांश को पढ़िये और दिये गए प्रश्नों के उत्तर दीजिये।

'न जाने कब से मनुष्य के अंतर से 'रात दिन रात' निकलती रही; मैं अंधकार से घिरगया हूँ, मुझे प्रकाश की ओर ले चलो - 'तमसोमा ज्योतिर्गमय।' परंतु यह पुकारशायद सुनी नहीं गई - 'होत न श्याम सहाय।' प्रकाश और अंधकार की आँखमिचौनी चलतीही रही, चलती ही रहेगी। यह तो विधि का विधान है। कौन टाल सकता है इसे। किस दिन एक शुभ मुहूर्त में मनुष्य ने मिट्टी के दीये, रुई की बाती, चकमक की चिनगारी और बीजों से निकलनेवाले स्रोत का संयोग देखा। अंधकार को जीता जा सकता है। दिया जलाया जा सकता है। घने अंधकार में डूबी धरती को आंशिक रूप में आलोकित किया जा सकता है। अंधकार से जूझने के संकल्प की जीत हुई। तब से मनुष्य ने इस दिशा में बड़ी प्रगति की है, पर वह आदिम प्रयास क्या भूलने की चीज है? वह मनुष्य की दीर्घकालीन कातर प्रार्थना का उज्ज्वल फल था। दीवाली याद दिला जाती है उस ज्ञानलोक के अभिनव अंकुर की, जिसने मनुष्य की कातर प्रार्थना को दृढ़ संकल्प का रूप दिया था- अंधकार से जूझना है, विघ्न-बाधाओं की उपेक्षा करके, संकटों का सामना करके। इधर कुछ दिनों से शिथिल स्वर सुनाई देने लगे हैं। लोग कहते सुने जाते हैं- अंधकार महाबलवान है, उससे जूझने का संकल्प मूढ़ आदर्श मात्र है। सोचता हूँ, यह क्या संकल्प शक्ति का पराभव है? क्या मनुष्यता की अवमानना है? दीवाली आकर कह जाती है, अंधकार से जूझने का संकल्प ही सही यथार्थ है। मृगमरीचिका में मत भटको। अंधकार के सैकड़ों परत हैं। उससे जूझना ही मनुष्य का मनुष्यत्व है। जूझने का संकल्प ही महादेवता है। उसी को प्रत्यक्ष करने की क्रिया को लक्ष्मी की पूजा कहते हैं।

SubQuestion No : 22

Q.22 किसमें मनुष्य का मनुष्यत्व है?

- Ans A. अंधकार से जूझने में।
 B. देवी की पूजा करने में।
 C. प्रकाश के साथ जाने में।
 D. विधि विधान को समझने में।

Question ID : 630680177748

Status : Answered

Chosen Option : A

Comprehension:

निम्नलिखित गद्यांश को पढ़िये और दिये गए प्रश्नों के उत्तर दीजिये।

'न जाने कब से मनुष्य के अंतर से 'रात दिन राट' निकलती रही; मैं अंधकार से घिरगया हूँ, मुझे प्रकाश की ओर ले चलो - 'तमसोमा ज्योतिर्गमय।' परंतु यह पुकारशायद सुनी नहीं गई - 'होत न श्याम सहाय।' प्रकाश और अंधकार की आँखमिचौनी चलतीही रही, चलती ही रहेगी। यह तो विधि का विधान है। कौन टाल सकता है इसे। किस दिन एक शुभ मुहूर्त में मनुष्य ने मिट्टी के दीये, रुई की बाती, चकमक की चिनगारी और बीजों से निकलनेवाले स्रोत का संयोग देखा। अंधकार को जीता जा सकता है। दिया जलाया जा सकता है। घने अंधकार में डूबी धरती को आंशिक रूप में आलोकित किया जा सकता है। अंधकार से जूझने के संकल्प की जीत हुई। तब से मनुष्य ने इस दिशा में बड़ी प्रगति की है, पर वह आदिम प्रयास क्या भूलने की चीज है? वह मनुष्य की दीर्घकालीन कातर प्रार्थना का उज्ज्वल फल था। दीवाली याद दिला जाती है उस ज्ञानलोक के अभिनव अंकुर की, जिसने मनुष्य की कातर प्रार्थना को दृढ़ संकल्प का रूप दिया था- अंधकार से जूझना है, विघ्न-बाधाओं की उपेक्षा करके, संकटों का सामना करके। इधर कुछ दिनों से शिथिल स्वर सुनाई देने लगे हैं। लोग कहते सुने जाते हैं- अंधकार महाबलवान है, उससे जूझने का संकल्प मूढ़ आदर्श मात्र है। सोचता हूँ, यह क्या संकल्प शक्ति का पराभव है? क्या मनुष्यता की अवमानना है? दीवाली आकर कह जाती है, अंधकार से जूझने का संकल्प ही सही यथार्थ है। मृगमरीचिका में मत भटको। अंधकार के सैकड़ों परत हैं। उससे जूझना ही मनुष्य का मनुष्यत्व है। जूझने का संकल्प ही महादेवता है। उसी को प्रत्यक्ष करने की क्रिया को लक्ष्मी की पूजा कहते हैं।

SubQuestion No : 23

Q.23 गद्यांश की मूल संवेदना कौनसी है?

- Ans A. अँधेरे से जूझने का संकल्प ही महादेवता है।
 B. ज्ञानलोक का अंकुर अभिनव है।
 C. मैं अंधकार से घिरगया हूँ, मुझे प्रकाश की ओर ले चलो।
 D. अंधकार महाबलवान है, उससे जूझने का संकल्प मूढ़ आदर्श मात्र है।

Question ID : 630680177749

Status : Answered

Chosen Option : A

Comprehension:

निम्नलिखित गद्यांश को पढ़िये और दिये गए प्रश्नों के उत्तर दीजिये।

'न जाने कब से मनुष्य के अंतर से 'रात दिन राट' निकलती रही; मैं अंधकार से घिरगया हूँ, मुझे प्रकाश की ओर ले चलो - 'तमसोमा ज्योतिर्गमय।' परंतु यह पुकारशायद सुनी नहीं गई - 'होत न श्याम सहाय।' प्रकाश और अंधकार की आँखमिचौनी चलतीही रही, चलती ही रहेगी। यह तो विधि का विधान है। कौन टाल सकता है इसे। किस दिन एक शुभ मुहूर्त में मनुष्य ने मिट्टी के दीये, रुई की बाती, चकमक की चिनगारी और बीजों से निकलनेवाले स्रोत का संयोग देखा। अंधकार को जीता जा सकता है। दिया जलाया जा सकता है। घने अंधकार में डूबी धरती को आंशिक रूप में आलोकित किया जा सकता है। अंधकार से जूझने के संकल्प की जीत हुई। तब से मनुष्य ने इस दिशा में बड़ी प्रगति की है, पर वह आदिम प्रयास क्या भूलने की चीज है? वह मनुष्य की दीर्घकालीन कातर प्रार्थना का उज्ज्वल फल था। दीवाली याद दिला जाती है उस ज्ञानलोक के अभिनव अंकुर की, जिसने मनुष्य की कातर प्रार्थना को दृढ़ संकल्प का रूप दिया था- अंधकार से जूझना है, विघ्न-बाधाओं की उपेक्षा करके, संकटों का सामना करके। इधर कुछ दिनों से शिथिल स्वर सुनाई देने लगे हैं। लोग कहते सुने जाते हैं- अंधकार महाबलवान है, उससे जूझने का संकल्प मूढ़ आदर्श मात्र है। सोचता हूँ, यह क्या संकल्प शक्ति का पराभव है? क्या मनुष्यता की अवमानना है? दीवाली आकर कह जाती है, अंधकार से जूझने का संकल्प ही सही यथार्थ है। मृगमरीचिका में मत भटको। अंधकार के सैकड़ों परत हैं। उससे जूझना ही मनुष्य का मनुष्यत्व है। जूझने का संकल्प ही महादेवता है। उसी को प्रत्यक्ष करने की क्रिया को लक्ष्मी की पूजा कहते हैं।

SubQuestion No : 24

Q.24 गद्यांश के लिए उपयुक्त शीर्षक का चयन कीजिए।

- Ans A. अंधकार महाबलवान है।
 B. अंधकार से जूझने का संकल्प।
 C. संकल्प शक्ति का पराभव।
 D. दिवाली का महत्व।

Question ID : 630680177750

Status : Answered

Chosen Option : B

Comprehension:

निम्नलिखित गद्यांश को पढ़िये और दिये गए प्रश्नों के उत्तर दीजिये।

'न जाने कब से मनुष्य के अंतर से 'रात दिन राट' निकलती रही; मैं अंधकार से घिरगया हूँ, मुझे प्रकाश की ओर ले चलो - 'तमसोमा ज्योतिर्गमया' परंतु यह पुकारशायद सुनी नहीं गई - 'होत न श्याम सहाय।' प्रकाश और अंधकार की आँखमिचौनी चलतीही रही, चलती ही रहेगी। यह तो विधि का विधान है। कौन टाल सकता है इसे। किस दिन एक शुभ मुहूर्त में मनुष्य ने मिट्टी के दीये, रुई की बाती, चकमक की चिनगारी और बीजों से निकलनेवाले स्रोत का संयोग देखा। अंधकार को जीता जा सकता है। दिया जलाया जा सकता है। घने अंधकार में डूबी धरती को आंशिक रूप में आलोकित किया जा सकता है। अंधकार से जूझने के संकल्प की जीत हुई। तब से मनुष्य ने इस दिशा में बड़ी प्रगति की है, पर वह आदिम प्रयास क्या भूलने की चीज है? वह मनुष्य की दीर्घकालीन कातर प्रार्थना का उज्वल फल था। दीवाली याद दिला जाती है उस ज्ञानलोक के अभिनव अंकुर की, जिसने मनुष्य की कातर प्रार्थना को दृढ़ संकल्प का रूप दिया था- अंधकार से जूझना है, विघ्न-बाधाओं की उपेक्षा करके, संकटों का सामना करके। इधर कुछ दिनों से शिथिल स्वर सुनाई देने लगे हैं। लोग कहते सुने जाते हैं- अंधकार महाबलवान है, उससे जूझने का संकल्प मूढ़ आदर्श मात्र है। सोचता हूँ, यह क्या संकल्प शक्ति का पराभव है? क्या मनुष्यता की अवमानना है? दीवाली आकर कह जाती है, अंधकार से जूझने का संकल्प ही सही यथार्थ है। मृगमरीचिका में मत भटको। अंधकार के सैकड़ों परत हैं। उससे जूझना ही मनुष्य का मनुष्यत्व है। जूझने का संकल्प ही महादेवता है। उसी को प्रत्यक्ष करने की क्रिया को लक्ष्मी की पूजा कहते हैं।

SubQuestion No : 25

Q.25 'जूझना' का पर्यायवाची नहीं है -

- Ans
- A. उलझना
 - B. झगड़ना
 - C. जुझार
 - D. संघर्ष करना

Question ID : 630680177746

Status : Answered

Chosen Option : D

Section : English Language

Q.1 Select the most appropriate homonyms to fill in the blanks.

She _____ away the old shoes as they were unusable. Of course, it was true that they had _____ a lot.

- Ans
- A. cast; cast
 - B. cast; cost
 - C. cost; cast
 - D. cost; cost

Question ID : 630680177751

Status : Not Answered

Chosen Option : --

Q.2 Select the most appropriate option to fill in the blanks.

Many people believe they write in all caps because block writing enables them to write faster. The _____ truth, however, presents a different _____: it says you can write much faster in cursive.

- Ans
- A. scientific; picture
 - B. controlled; sketch
 - C. methodical; illustration
 - D. technical; delineation

Question ID : 630680177759

Status : Not Answered

Chosen Option : --

Q.3 Select the most appropriate option that can substitute the underlined segment in the given sentence. If there is no need to substitute it, select 'No substitution required'.
Ajay decided not to move to the other job because a bird in the bush is better than two in the hand.

- Ans
- A. some birds in the hand look better than they did in the bush
 - B. a bird in hand is better than two in the bush
 - C. No substitution required
 - D. leave birds in the bush instead of keeping them in the hand

Question ID : 630680177753
Status : Not Answered
Chosen Option : --

Q.4 Select the most appropriate option to fill in the blanks.
Actually, the alphabet may be the biggest problem we have with English. When I ask students what _____ of English they would change if they could, they _____ point to our illogical spelling system.

- Ans
- A. aspect; invariably
 - B. standpoint; normally
 - C. trait; habitually
 - D. outlook; exceptionally

Question ID : 630680177761
Status : Not Answered
Chosen Option : --

Q.5 Select the most appropriate option to fill in the blanks.
A hare was very popular with the other beasts who all claimed to be her friends. But one day she heard the hounds _____ and hoped to escape them with the _____ of her many friends.

- Ans
- A. advancing; benefit
 - B. oncoming; comfort
 - C. pending; relief
 - D. approaching; help

Question ID : 630680177758
Status : Not Answered
Chosen Option : --

Q.6 Select the most appropriate option that can substitute the underlined segment in the given sentence. If there is no need to substitute it, select 'No substitution required'.
The company has been through thick and thin before reaching these heights.

- Ans
- A. had both many employees and fewer staff
 - B. had large premises and even small ones
 - C. No substitution required
 - D. experienced all sorts of successes

Question ID : 630680177754
Status : Not Answered
Chosen Option : --

Q.7 Select the most appropriate option to fill in the blanks.
Siddharth struggled to read and _____ the passage his teacher had asked him to. However hard he tried, he found the words too _____ to understand.

- Ans A. comprehend; complicated
 B. confound; diffused
 C. observe; conceptual
 D. discover; conjectural

Question ID : 630680177760
Status : Not Answered
Chosen Option : --

Q.8 Select the most appropriate option that can substitute the underlined segment in the given sentence.
However silly it may seem, Vivek is better known by his characterising occurring in place of his name, Mottu.

- Ans A. truism
 B. epigram
 C. axiom
 D. epithet

Question ID : 630680177764
Status : Not Answered
Chosen Option : --

Q.9 Select the most appropriate option to fill in the blank. In case no word is needed, select 'No word required'.
Vinod's car is ___ most expensive one in our neighbourhood.

- Ans A. an
 B. a
 C. the
 D. No word required

Question ID : 630680177768
Status : Not Answered
Chosen Option : --

Q.10 Select the most appropriate synonym of the given word.
Assent

- Ans A. Increase
 B. Discord
 C. Agreement
 D. Clash

Question ID : 630680177752
Status : Not Answered
Chosen Option : --

Q.11 Parts of the following sentence have been given as options. Select the option that contains a spelling error. If there is no error, select 'No error'.
The notice outside the office said, "Noadmittance without permission."

- Ans A. No error
 B. Noadmittance
 C. without permission
 D. The notice outside the office said

Question ID : 630680177755
Status : Not Answered
Chosen Option : --

Q.12 Parts of the following sentence have been given as options. Select the option that contains a grammatical error. If there is no error, select 'No error'.
Aditya will found it difficult to manage in Boston if he doesn't have enough woollens.

- Ans A. Aditya will found it difficult
 B. if he doesn't have enough woollens
 C. to manage in Boston
 D. No error

Question ID : 630680177770
Status : Not Answered
Chosen Option : --

Q.13 Select the most appropriate option that can substitute the underlined segment in the given sentence.
The vain, boasting fellow always gathers a group around himself.

- Ans A. braggart
 B. broadcaster
 C. announcer
 D. trumpeter

INDIA

Question ID : 630680177763
Status : Not Answered
Chosen Option : --

Q.14 Parts of the following sentence have been given as options. Select the option that contains a spelling error. If there is no error, select 'No error'.
The surveillance department raided the house and offices of the firm during the reconnaissance.

- Ans A. No error
 B. The surveillance department raided
 C. during the reconnaissance
 D. the house and offices of the firm

Question ID : 630680177756
Status : Not Answered
Chosen Option : --

Q.15 Select the most appropriate option to fill in the blank. In case no word is needed, select 'No word required'.

How can India become ____ superpower of the region?

- Ans
- A. one
 - B. a
 - C. the
 - D. No word required

Question ID : 630680177767

Status : Not Answered

Chosen Option : --

Q.16 Parts of the following sentence have been given as options. Select the option that contains a grammatical error. If there is no error, select 'No error'.

Tomorrow, please help me to disposed off unwanted papers that are piled up on my table.

- Ans
- A. Tomorrow, please help me to disposed off
 - B. No error
 - C. on my table
 - D. unwanted papers that are piled up

Question ID : 630680177769

Status : Not Answered

Chosen Option : --

Q.17 Select the most appropriate option to fill in the blank.
Have you seen ____ mobile phone anywhere?

- Ans
- A. their
 - B. my
 - C. its
 - D. mine

INDIA

Question ID : 630680177765

Status : Not Answered

Chosen Option : --

Q.18 Sentences of a paragraph are given below in jumbled order. Arrange the sentences in the correct order to form a meaningful and coherent paragraph.

- A. For the world he became the voice of India's spiritual heritage, and for India, especially for Bengal, he became a great living institution.
- B. In fact, his fame attained a luminous height, taking him across continents on lecture tours and tours of friendship.
- C. With his translations of some of his poems he became rapidly known in the West.
- D. Tagore had early success as a writer in his native Bengal.

- Ans
- A. DACB
 - B. CDBA
 - C. DCBA
 - D. BDCA

Question ID : 630680177757

Status : Not Answered

Chosen Option : --

Q.19 Select the most appropriate option that can substitute the underlined segment in the given sentence.

On my way to office, I always pass by the place where coins, medals and tokens are made.

- Ans
- A. kiln
 - B. furnace
 - C. mint
 - D. bank

Question ID : 630680177762

Status : Not Answered

Chosen Option : --

Q.20 Select the most appropriate option to fill in the blank.

Vibha looked ___ her son angrily when he put his finger in his nose.

- Ans
- A. with
 - B. at
 - C. on
 - D. by

Question ID : 630680177766

Status : Not Answered

Chosen Option : --

Comprehension:

Read the given passage and answer the questions that follow.

Despite high education among women, the rate of women's employment is very low in India. According to data compiled by the World Bank, the number of working women in India dropped from 24% to 18% between 2010 and 2020. Similarly, the India Discrimination Report 2022 released by Oxfam India states that women in India, despite possessing the same educational qualifications and work experience as men, will be discriminated against due to societal and employers' prejudices. Likewise, though India tops the world in producing female graduates in STEM, it ranks 19th in employing them. These numbers remain true across other fields as well. The wide gap between the number of women graduating every year and those entering the workspace is an issue of paramount importance that needs to be addressed. This article aims to critically analyse this challenge while looking at a possible way forward. India's present gender gap in terms of literacy is more than twice the 2016 global average and even higher than that for lower-middle-income countries. According to the National Sample Survey Office (NSSO) data, in 2017-18, a total of 186 million women in India cannot even write a simple sentence in any language. This statistic is a call for attention, showcasing that India is far from achieving the fourth Sustainable Development Goal (SDG)—'inclusive and equitable quality education' and 'lifelong learning opportunities for all'—by 2030.

SubQuestion No : 21

Q.21 Which statistical information is being referred to in the sentence 'This statistic is a call for attention, showcasing that India is far from achieving the fourth Sustainable Development Goal (SDG)'?

- Ans
- A. Target set for women's education by 2030
 - B. The lifelong learning opportunities
 - C. The gender gap in education
 - D. The illiteracy of the women

Question ID : 630680177773

Status : Not Answered

Chosen Option : --

Comprehension:

Read the given passage and answer the questions that follow.

Despite high education among women, the rate of women's employment is very low in India. According to data compiled by the World Bank, the number of working women in India dropped from 24% to 18% between 2010 and 2020. Similarly, the India Discrimination Report 2022 released by Oxfam India states that women in India, despite possessing the same educational qualifications and work experience as men, will be discriminated against due to societal and employers' prejudices. Likewise, though India tops the world in producing female graduates in STEM, it ranks 19th in employing them. These numbers remain true across other fields as well. The wide gap between the number of women graduating every year and those entering the workspace is an issue of paramount importance that needs to be addressed. This article aims to critically analyse this challenge while looking at a possible way forward. India's present gender gap in terms of literacy is more than twice the 2016 global average and even higher than that for lower-middle-income countries. According to the National Sample Survey Office (NSSO) data, in 2017-18, a total of 186 million women in India cannot even write a simple sentence in any language. This statistic is a call for attention, showcasing that India is far from achieving the fourth Sustainable Development Goal (SDG)—'inclusive and equitable quality education' and 'lifelong learning opportunities for all'—by 2030.

SubQuestion No : 22

Q.22 Which of the following is the most appropriate title for this passage?

- Ans A. Challenges in women's status in the home
 B. Women's education: progress through the ages
 C. Concerns about women's education and employment
 D. New roles of women in society

Question ID : 630680177772

Status : Not Answered

Chosen Option : --

Comprehension:

Read the given passage and answer the questions that follow.

Despite high education among women, the rate of women's employment is very low in India. According to data compiled by the World Bank, the number of working women in India dropped from 24% to 18% between 2010 and 2020. Similarly, the India Discrimination Report 2022 released by Oxfam India states that women in India, despite possessing the same educational qualifications and work experience as men, will be discriminated against due to societal and employers' prejudices. Likewise, though India tops the world in producing female graduates in STEM, it ranks 19th in employing them. These numbers remain true across other fields as well. The wide gap between the number of women graduating every year and those entering the workspace is an issue of paramount importance that needs to be addressed. This article aims to critically analyse this challenge while looking at a possible way forward. India's present gender gap in terms of literacy is more than twice the 2016 global average and even higher than that for lower-middle-income countries. According to the National Sample Survey Office (NSSO) data, in 2017-18, a total of 186 million women in India cannot even write a simple sentence in any language. This statistic is a call for attention, showcasing that India is far from achieving the fourth Sustainable Development Goal (SDG)—'inclusive and equitable quality education' and 'lifelong learning opportunities for all'—by 2030.

SubQuestion No : 23

Q.23 What is the tone of the passage?

- Ans A. Condescending
 B. Derisive
 C. Analytical
 D. Adulatory

Question ID : 630680177776

Status : Not Answered

Chosen Option : --

Comprehension:

Read the given passage and answer the questions that follow.

Despite high education among women, the rate of women's employment is very low in India. According to data compiled by the World Bank, the number of working women in India dropped from 24% to 18% between 2010 and 2020. Similarly, the India Discrimination Report 2022 released by Oxfam India states that women in India, despite possessing the same educational qualifications and work experience as men, will be discriminated against due to societal and employers' prejudices. Likewise, though India tops the world in producing female graduates in STEM, it ranks 19th in employing them. These numbers remain true across other fields as well. The wide gap between the number of women graduating every year and those entering the workspace is an issue of paramount importance that needs to be addressed. This article aims to critically analyse this challenge while looking at a possible way forward. India's present gender gap in terms of literacy is more than twice the 2016 global average and even higher than that for lower-middle-income countries. According to the National Sample Survey Office (NSSO) data, in 2017-18, a total of 186 million women in India cannot even write a simple sentence in any language. This statistic is a call for attention, showcasing that India is far from achieving the fourth Sustainable Development Goal (SDG)—'inclusive and equitable quality education' and 'lifelong learning opportunities for all'—by 2030.

SubQuestion No : 24

Q.24 Which of the following can be inferred from this passage?

- Ans
- A. Women prefer to study through non-formal modes
 - B. Biases against women continue in the workplaces
 - C. Women are struggling to learn how to write
 - D. More women are studying to be graduates

Question ID : 630680177774

Status : Not Answered

Chosen Option : --

Comprehension:

Read the given passage and answer the questions that follow.

Despite high education among women, the rate of women's employment is very low in India. According to data compiled by the World Bank, the number of working women in India dropped from 24% to 18% between 2010 and 2020. Similarly, the India Discrimination Report 2022 released by Oxfam India states that women in India, despite possessing the same educational qualifications and work experience as men, will be discriminated against due to societal and employers' prejudices. Likewise, though India tops the world in producing female graduates in STEM, it ranks 19th in employing them. These numbers remain true across other fields as well. The wide gap between the number of women graduating every year and those entering the workspace is an issue of paramount importance that needs to be addressed. This article aims to critically analyse this challenge while looking at a possible way forward. India's present gender gap in terms of literacy is more than twice the 2016 global average and even higher than that for lower-middle-income countries. According to the National Sample Survey Office (NSSO) data, in 2017-18, a total of 186 million women in India cannot even write a simple sentence in any language. This statistic is a call for attention, showcasing that India is far from achieving the fourth Sustainable Development Goal (SDG)—'inclusive and equitable quality education' and 'lifelong learning opportunities for all'—by 2030.

SubQuestion No : 25

Q.25 Which of the following phrases suggests action to be taken

- Ans
- A. Tops the world
 - B. Far from achieving
 - C. Way forward
 - D. Remain true across other fields

Question ID : 630680177775

Status : Not Answered

Chosen Option : --

Section : General Aptitude

Q.1 2021-22 में, लोकसभा ने सूचित किया कि संशोधित प्रधान मंत्री जन विकास कार्यक्रम (PMJVK) योजना को सरकार द्वारा _____ वित्त आयोग चक्र, अर्थात् वित्तीय वर्ष 2021-22 से 2025-26 के दौरान जारी रखने के लिए अनुमोदित किया गया है।

- Ans A. 18वें
 B. 17वें
 C. 16वें
 D. 15वें

Question ID : 630680177779
Status : Answered
Chosen Option : C

Q.2 2023 में उस्ताद ज़ाकिर हुसैन को किस पुरस्कार से सम्मानित किया गया?

- Ans A. पद्म श्री
 B. कोई पुरस्कार नह
 C. पद्म भूषण
 D. पद्म विभूषण

Question ID : 630680177790
Status : Answered
Chosen Option : D

Q.3 निम्नलिखित में से कौन सा विकल्प भारत के मूल संविधान में नहीं था और बाद में 1976 में 42वें संशोधन अधिनियम द्वारा जोड़ा गया था?

- Ans A. राज्य के नीति निर्देशक सिद्धांत
 B. मौलिक कर्तव्य
 C. मौलिक अधिकार
 D. भारत के संविधान की उद्देशिका

Question ID : 630680177800
Status : Answered
Chosen Option : A

Q.4 हिमालय के संबंध में निम्नलिखित में से कौन सा कथन सही नहीं है?

- Ans A. इनकी चौड़ाई कश्मीर में 400 km से लेकर अरुणाचल प्रदेश में 150 km तक है।
 B. हिमालय, भूविज्ञान रूप से नवोदित और संरचनात्मक रूप से बलित पहाड़, भारत की उत्तरी सीमाओं पर फैला हुआ है।
 C. ये एक चाप बनाते हैं, जो लगभग 3,400 km की दूरी को समाविष्ट करता है।
 D. ये पर्वत श्रृंखलाएं सिंधु से ब्रह्मपुत्र तक पश्चिम-पूर्व दिशा में फैली हैं।

Question ID : 630680177795
Status : Answered
Chosen Option : D

Q.5 भारत के संविधान के किस अनुच्छेद में उल्लेख किया गया है कि भारत में प्रत्येक वित्तीय वर्ष, जो 1 अप्रैल से 31 मार्च तक चलता है, के संबंध में सरकार की प्राक्कलित प्राप्तियों और व्ययों का विवरण संसद के समक्ष प्रस्तुत करना संवैधानिक आवश्यकता है?

- Ans
- A. अनुच्छेद 110
 - B. अनुच्छेद 111
 - C. अनुच्छेद 112
 - D. अनुच्छेद 114

Question ID : 630680177793
Status : Answered
Chosen Option : A

Q.6 संयुक्त राष्ट्र विकास कार्यक्रम द्वारा जारी एक रिपोर्ट के अनुसार, मानव विकास सूचकांक मान 0.633 के साथ, 2021 में 191 देशों में से भारत _____ स्थान पर है।

- Ans
- A. 136वें
 - B. 134वें
 - C. 138वें
 - D. 132वें

Question ID : 630680177794
Status : Not Answered
Chosen Option : --

Q.7 भारतीय प्रौद्योगिकी संस्थान मद्रास के एक भारतीय वैज्ञानिक, प्रोफेसर थलप्पिल प्रदीप को 20 दिसंबर, 2022 को _____ में विनफ्यूचर स्पेशल प्राइज (VinFuture Special Prize) प्रदान किया गया।

- Ans
- A. हनोई
 - B. लंदन
 - C. शंघाई
 - D. न्यू यॉर्क

Question ID : 630680177777
Status : Not Answered
Chosen Option : --

Q.8 राष्ट्रीय खेल और साहसिक पुरस्कार 2022 कितने उत्कृष्ट एथलीटों/कोचों को प्रदान किए गए?

- Ans
- A. 43
 - B. 44
 - C. 42
 - D. 41

Question ID : 630680177782
Status : Answered
Chosen Option : D

Q.9 आंध्र प्रदेश का कौन सा जिला सर्वोत्तम गुणवत्ता वाले अभ्रक का उत्पादन करता है?

- Ans A. नेल्लोर
 B. गुंटूर
 C. कुरनूल
 D. कडपा

Question ID : 630680177796
Status : Answered
Chosen Option : C

Q.10 रसोई में प्रयोग होने वाले बेकिंग सोडा का रासायनिक नाम क्या है?

- Ans A. सोडियम क्लोराइड
 B. कैल्शियम कार्बोनेट
 C. सोडियम हाइड्रोजन कार्बोनेट
 D. कैल्शियम बाई कार्बोनेट

Question ID : 630680177798
Status : Answered
Chosen Option : D

Q.11 भारत के अग्रणी बिलियर्ड खिलाड़ी पंकज आडवाणी ने कुआलालम्पुर में हमवतन सौरव कोठारी को 4-0 से हराकर अपना _____ विश्व खिताब प्राप्त किया।

- Ans A. 20वां
 B. 25वां
 C. 27वां
 D. 29वां



INDIA

Question ID : 630680177781
Status : Not Answered
Chosen Option : --

Q.12 भावगीत लोक संगीत निम्नलिखित में से किस राज्य से संबंधित है?

- Ans A. केरल
 B. आंध्र प्रदेश
 C. छत्तीसगढ़
 D. कर्नाटक

Question ID : 630680177791
Status : Answered
Chosen Option : B

Q.13 1236 में सुल्तान इल्तुतमिश की पुत्री रजिया, सुल्तान बनी। युग के इतिहासकार मिन्हाज-ए सिराज ने माना कि वह अपने सभी भाइयों की तुलना में अधिक सक्षम और योग्य थी। किंतु एक रानी के शासक के रूप में होने से वह सहज नहीं था। न ही कोई रईस उसके स्वतंत्र रूप से शासन करने के प्रयासों से प्रसन्न था। रजिया सुल्तान को गद्दी से कब हटाया गया था?

- Ans A. 1240
 B. 1237
 C. 1238
 D. 1239

Question ID : 630680177785

Status : Answered

Chosen Option : A

Q.14 हज 2022 की प्रमुख विशेषताओं में से एक के रूप में निम्नलिखित में से कौन सा कथन सही नहीं है?

- Ans A. 70 वर्ष से कम आयु के तीर्थयात्री जिनका अनुमोदित COVID टीकों के साथ पूर्णतः टीकाकरण हुआ था, उन्हें अनुमति दी गई थी।
 B. महामारी के बाद की अवधि में स्वास्थ्य देखभाल की आवश्यकताओं को ध्यान में रखते हुए, सऊदी अरब ने तीर्थयात्रियों की कुल संख्या को 10 लाख तक सीमित कर दिया, जिसमें बाहर से आए 8.5 लाख सम्मिलित थे।
 C. मुख्य हज अवधि 5 जुलाई से 12 जुलाई, 2022 के बीच थी, किंतु तीर्थयात्रियों का प्रस्थान 24 जून, 2022 से आरंभ हुआ। द्विपक्षीय हज समझौते पर हस्ताक्षर 20 अप्रैल, 2022 को किए गए।
 D. सामान्य वर्ष के दौरान, हज संचालन की तैयारियों से संबंधित कार्य 5-6 माह पूर्व ही पूर्ण कर लिए जाते हैं, किंतु हज 2022 के लिए यह व्यवस्था डेढ़ माह के अत्यल्प समय के नोटिस पर की गई थी।

Question ID : 630680177780

Status : Not Answered

Chosen Option : --

Q.15 धार्मिक सुधार के क्षेत्र में राजा राम मोहन राय की सबसे बड़ी उपलब्धि 1828 में _____ की स्थापना थी।

- Ans A. प्रार्थना समाज
 B. ब्रह्म समाज
 C. देव समाज
 D. आर्य समाज

Question ID : 630680177786

Status : Answered

Chosen Option : B

Q.16 तोमरों और चौहानों के अधीन दिल्ली एक महत्वपूर्ण वाणिज्यिक केंद्र बन गया। अनेक धनी जैन व्यापारी शहर में रहते थे और उन्होंने अनेक मंदिरों का निर्माण करवाया। यहाँ ढाले गए सिक्के, जिन्हें _____ कहा जाता था, का व्यापक प्रचलन था।

- Ans A. देहलीवाल
 B. चाहमानस सिक्के
 C. तमारा सिक्के
 D. अजमेर टकसाल सिक्के

Question ID : 630680177784

Status : Answered

Chosen Option : A

Q.17 बैंक जमा के संबंध में निम्नलिखित में से कौन सा कथन सही नहीं है?

- Ans A. जिस दर पर बैंक निवेशकों को अपना संचय उधार देते हैं, उसे ऋण दर कहा जाता है।
- B. बैंक द्वारा जमा धारकों को दी जाने वाली ब्याज की दर को उधार दर कहा जाता है।
- C. जमा मोटे तौर पर दो प्रकार की होती हैं - मांग जमा, खाताधारक की मांग पर बैंकों द्वारा देय, उदाहरण - चालू और बचत खाता जमा, और मियादी जमा, जिनकी परिपक्वता के लिए एक निश्चित अवधि होती है, उदाहरण - सावधि जमा।
- D. दो दरों के बीच का अंतर, जिसे 'तरलता' कहा जाता है, वह लाभ है जो बैंकों द्वारा विनियोजित किया जाता है।

Question ID : 630680177792

Status : Not Attempted and Marked For Review

Chosen Option : --

Q.18 ज्योतिराव गोविंदराव फुले, जो जोतिबा के नाम से लोकप्रिय हैं, ने _____ में उत्पीड़ितों हेतु सत्य-शोधक की स्थापना की।

- Ans A. 1883
- B. 1863
- C. 1893
- D. 1873

Question ID : 630680177787

Status : Answered

Chosen Option : D

Q.19 सैकिया कोल एंड एनर्जी रिसर्च ग्रुप के डॉ. बिनाय कुमार को विज्ञान की किस शाखा में शांति स्वरूप भटनागर पुरस्कार 2021 प्रदान किया गया?

- Ans A. गणितीय विज्ञान
- B. पृथ्वी, वायुमंडल, महासागर और ग्रह विज्ञान
- C. अभियांत्रिकी विज्ञान
- D. चिकित्सीय विज्ञान

INDIA

Question ID : 630680177778

Status : Not Answered

Chosen Option : --

Q.20 आवधिकता और पदार्थ की अवस्थाओं के संबंध में निम्नलिखित कथनों में से कौन सा विकल्प सही है?

- i. हमारे चारों ओर पदार्थ तत्वों, यौगिकों और मिश्रणों के रूप में विद्यमान हैं।
- ii. तत्वों में केवल एक ही प्रकार के परमाणु होते हैं।

- Ans A. केवल विकल्प i सही है।
- B. केवल विकल्प ii सही है।
- C. विकल्प i और ii, दोनों गलत हैं।
- D. विकल्प i और ii, दोनों सही हैं।

Question ID : 630680177799

Status : Answered

Chosen Option : A

Q.21 कर्नाटक संगीत में, रागों (रागम) को विभिन्न विधाओं में वर्गीकृत किया गया है। इन विधाओं को मेलकर्ता कहा जाता है, जो संख्या में _____ हैं।

- Ans
- A. बासठ
 - B. बयासी
 - C. बावन
 - D. बहत्तर

Question ID : 630680177789
Status : Not Answered
Chosen Option : --

Q.22 शास्त्रीय नृत्य मोहिनीअट्टम भारत के किस राज्य में विकसित हुआ?

- Ans
- A. तमिलनाडु
 - B. केरल
 - C. आंध्र प्रदेश
 - D. ओडिशा

Question ID : 630680177788
Status : Answered
Chosen Option : B

Q.23 भारत के संदर्भ में मालदीव किस दिशा में स्थित है?

- Ans
- A. पूर्व
 - B. दक्षिण-पश्चिम
 - C. पश्चिम
 - D. दक्षिण-पूर्व



INDIA

Question ID : 630680177797
Status : Answered
Chosen Option : D

Q.24 निम्नलिखित में से किस खिलाड़ी के कोच को वर्ष 2022 में आजीवन श्रेणी में द्रोणाचार्य पुरस्कार प्रदान किया गया?

- Ans
- A. मोहम्मद शमी
 - B. रोहित शर्मा
 - C. शिखर धवन
 - D. विराट कोहली

Question ID : 630680177783
Status : Answered
Chosen Option : B

Q.25 Which of the following is NOT a role of the Union Executive Branch of India?

- Ans A. The head of the branch (the President) serving as the commander in chief of the armed forces
- B. Appointing the Chief Minister of the state
- C. Negotiating of treaties
- D. Appointing of the members of the Supreme Court

Question ID : 630680177801

Status : Answered

Chosen Option : B

Section : General Intelligence

Q.1 यदि

A + B का अर्थ है कि 'A, B की माँ है',
A - B का अर्थ है कि 'A, B के पिता हैं',
A × B का अर्थ है कि 'A, B का भाई है' और
A ÷ B का अर्थ है कि 'A, B की पुत्री है'।
निम्नलिखित व्यंजक में T का E के साथ क्या संबंध है?
 $T \times R \div S + U - E$

- Ans A. भतीजा (भाई का पुत्र)
- B. भाई
- C. पिता
- D. चाचा (पिता का भाई)

Question ID : 630680177813

Status : Answered

Chosen Option : D

Q.2 यदि 'x' का अर्थ 'जोड़ना', '÷' का अर्थ 'घटाना', '+' का अर्थ 'गुणा करना' और '-' का अर्थ 'भाग देना' है, तो निम्नलिखित व्यंजक का मान ज्ञात कीजिए।
 $64 + 4 \div 11 \times 13 \div 72 - 12$

- Ans A. 252
- B. 274
- C. 12
- D. 264

Question ID : 630680177826

Status : Answered

Chosen Option : A

Q.3 एक सुबह सूर्योदय के बाद, अन्विता ने अपनी छाया की दिशा में चलना शुरू किया। 300 m चलने के बाद, वह उत्तर की ओर मुड़ी और 600 m और आगे चली। फिर, वह अपने दाईं ओर मुड़ी और 600 m चली। फिर वह अपने दाईं ओर मुड़ी और 200 m चली। अंत में, वह पश्चिम की ओर मुड़ी और 300 m चली। अब वह अपने शुरुआती स्थान से किस दिशा में है?

- Ans A. उत्तर
 B. पश्चिम
 C. दक्षिण
 D. पूर्व

Question ID : 630680177812

Status : Answered

Chosen Option : A

Q.4 दिए गए विकल्पों में से उस संख्या का चयन करें जो निम्नलिखित श्रृंखला में प्रश्नवाचक चिह्न (?) को प्रतिस्थापित कर सकती है।
0, 1, 4, 11, 24, 45, 76, 119, 176, ?

- Ans A. 294
 B. 249
 C. 246
 D. 244

Question ID : 630680177823

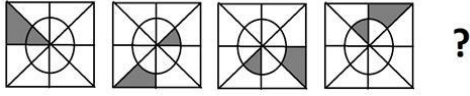
Status : Not Answered

Chosen Option : --



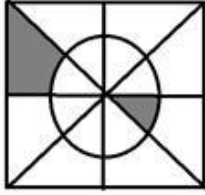
INDIA

Q.5 दिए गए विकल्पों में से उस आकृति का चयन करें जो नीचे दी गई श्रृंखला में प्रश्नवाचक चिह्न (?) को प्रतिस्थापित कर सकती है।



Ans

✓ A.



✗ B.



✗ C.



✗ D.



Question ID : 630680177820

Status : Answered

Chosen Option : A

Q.6 चार अक्षर समूह दिए गए हैं जिनमें से तीन किसी प्रकार से एक समान हैं और एक असंगत है। उसका चयन करें जो असंगत है।

Ans ✓ A. GAXSO

✗ B. WRNIE

✗ C. SNJEA

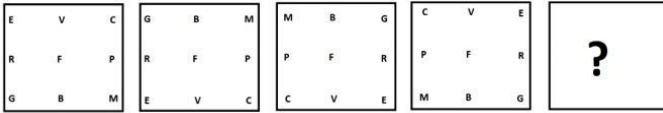
✗ D. AVRMI

Question ID : 630680177817

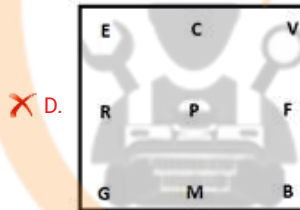
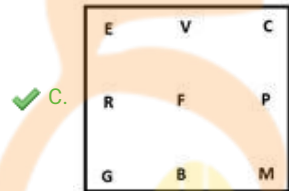
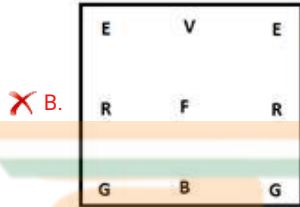
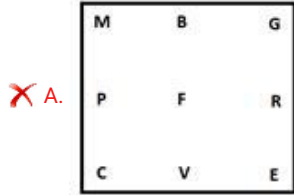
Status : Answered

Chosen Option : A

Q.7 दिए गए विकल्पों में से उस आकृति का चयन करें जो नीचे दी गई श्रृंखला में प्रश्नवाचक चिह्न (?) को प्रतिस्थापित कर सकती है।

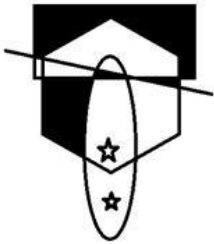


Ans



Question ID : 630680177821
 Status : Answered
 Chosen Option : C

Q.8 दर्पण को दाईं ओर रखे जाने पर, दी गई आकृति की सही दर्पण छवि का चयन करें।



Ans

A.



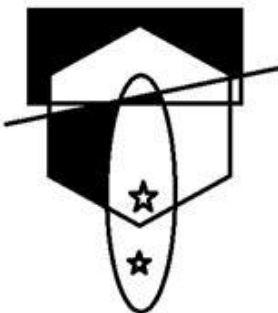
B.



C.



D.



INDIA

Question ID : 630680177822

Status : Answered

Chosen Option : C

Q.9 चार अक्षर - समूह युग्म दिए गए हैं, जिनमें से तीन किसी प्रकार से एक समान हैं और एक असंगत है। उसका चयन करें जो असंगत है।

- Ans A. OEIYZ : IYEOZ
 B. IBUOS : IOUBS
 C. HETYD : EDHTY
 D. ANHRT : AHNRT

Question ID : 630680177818
Status : Answered
Chosen Option : D

Q.10 शब्द 'MICROWAVE' में कितने अक्षर युग्म (केवल आगे के क्रम में) हैं जहाँ शब्द में उनके बीच अक्षरों की संख्या अंग्रेजी वर्णमाला में उनके बीच अक्षरों की संख्या के समान है?

- Ans A. 1
 B. 2
 C. 0
 D. 3

Question ID : 630680177807
Status : Answered
Chosen Option : A

Q.11 शिखा ने मंगलवार, 24 जनवरी, 2023 को अपना 32वां जन्मदिन मनाया। सप्ताह के किस दिन उसने अपना 16वां जन्मदिन मनाया था?

- Ans A. शुक्रवार
 B. बुधवार
 C. शनिवार
 D. रविवार

INDIA

Question ID : 630680177810
Status : Answered
Chosen Option : A

Q.12 निम्नलिखित समीकरण को संतुलित करने के लिए किन दो संख्याओं को आपस में बदला जाना चाहिए?
 $26 + 13 - 11 \times 5 + 42 \div 6 = -99$

- Ans A. 26 और 11
 B. 11 और 6
 C. 13 और 5
 D. 6 और 5

Question ID : 630680177825
Status : Answered
Chosen Option : A

Q.13 छह मित्र, A, B, C, D, E और F, एक गोल मेज के परितः बैठे हैं। वे सभी मेज के केंद्र की ओर अभिमुख हैं। A और B के बीच केवल D बैठा है। C, E के सन्निकट दाईं ओर बैठा है, जो D के दाईं ओर दूसरे स्थान पर बैठा है। A और C के बीच केवल F बैठा है। B, E के सन्निकट बाईं ओर बैठा है। D के बाईं ओर दूसरे स्थान पर कौन बैठा है?

- Ans
- A. C
 - B. B
 - C. F
 - D. E

Question ID : 630680177802
Status : Answered
Chosen Option : C

Q.14 चार अक्षर-समूह युग्म दिए गए हैं, जिनमें से तीन किसी प्रकार से एक समान हैं और एक असंगत है। उसका चयन करें जो असंगत है।

- Ans
- A. HFDBZ : MKIGE
 - B. IGECA : NLJHF
 - C. YWUSQ : DBZXV
 - D. PRTVX : UWYAC

Question ID : 630680177819
Status : Not Answered
Chosen Option : --

Q.15 If the first half of the given number string is written in the ascending order and then the second half of the string is written in the descending order, which number will come 10th to the left of the 24th number from the left?
(Left) 9 5 8 4 1 2 6 5 8 9 5 2 5 4 7 8 9 2 5 7 2 5 9 8 7 4 5 6 3 5 8 7 (Right)

- Ans
- A. 6
 - B. 7
 - C. 8
 - D. 9

Question ID : 630680177809
Status : Answered
Chosen Option : C

Q.16 छह व्यक्ति, अनघा, बानी, शीतल, लुकास, मिहिर और तारा एक सीधी पंक्ति में उत्तर की ओर अभिमुख होकर बैठे हैं। पांच व्यक्ति शीतल के दाईं ओर बैठे हैं। बानी और लुकास के बीच तीन व्यक्ति बैठे हैं। मिहिर, बानी के ठीक बाईं ओर बैठा है। तारा और शीतल के बीच केवल लुकास बैठा है। निम्नलिखित में से कौन दाएं सिरे पर बैठा/ठी है?

- Ans
- A. मिहिर
 - B. अनघा
 - C. शीतल
 - D. बानी

Question ID : 630680177803
Status : Answered
Chosen Option : D

Q.17 एक परिवार के नौ सदस्य एक साथ रहते हैं। G, D की पौत्री है। C की दो पुत्रियाँ और एक पुत्र है। I, H के पिता और C के दामाद हैं। B, G की माँ है। C, F के पिता हैं। E, A और F की बहन है। B का विवाह F के साथ हुआ है। A, H की माँ है। C का G के साथ क्या संबंध है?

- Ans A. दादाजी
 B. दादी
 C. पिता
 D. चाचा (पिता का भाई)

Question ID : 630680177814
Status : Not Answered
Chosen Option : --

Q.18 छह व्यक्ति K, L, M, N, O और P एक परिवार के सदस्य हैं। K चार व्यक्तियों से छोटा है। L, N से बड़ा है लेकिन M से छोटा है। O, K से छोटा है, जो N से छोटा है। L दो व्यक्तियों से छोटा है। M सबसे बड़ा नहीं है। निम्नलिखित में से सबसे बड़ा कौन है?

- Ans A. P
 B. N
 C. L
 D. K

Question ID : 630680177805
Status : Answered
Chosen Option : A

Q.19 चार अक्षर समूह दिए गए हैं जिनमें से तीन किसी प्रकार से एक समान हैं और एक असंगत है। उसका चयन करें जो असंगत है।

- Ans A. ZGALS
 B. LRENT
 C. DHUPM
 D. BETIYA

Question ID : 630680177816
Status : Not Answered
Chosen Option : --

Q.20 अक्षरों के उस संयोजन का चयन करें जो दी गई श्रृंखला के रिक्त स्थानों में क्रमिक रूप से रखे जाने पर श्रृंखला को पूरा करेगा।

_ _ NML _ _ MLKNNML _ _ NMLKNN _ _

- Ans A. KNKNKNMLN
 B. KNKNMMLNK
 C. KNKNKNMML
 D. KNNNKKNNML

Question ID : 630680177806
Status : Answered
Chosen Option : C

Q.21 एक कूट भाषा में, 'MAHAL' को 'MLHAA' के रूप में कूटबद्ध किया जाता है और 'PLACE' को 'PLECA' के रूप में कूटबद्ध किया जाता है। उस भाषा में 'BLESS' को किस रूप में कूटबद्ध किया जाएगा?

- Ans
- A. SLEBS
 - B. SLESB
 - C. SSELB
 - D. SSLEB

Question ID : 630680177811
Status : Answered
Chosen Option : D

Q.22 दिए गए विकल्पों में से, उसका चयन करें जो नीचे दिए गए अक्षरांकीय समूह के समान है।
A 2 K 8 U

- Ans
- A. P 1 Z 7 I
 - B. E 3 O 6 Z
 - C. I 3 S 9 C
 - D. J 8 T 2 D

Question ID : 630680177815
Status : Not Answered
Chosen Option : --

Q.23 उस संख्या की पहचान करें जो निम्नलिखित श्रृंखला से संबंधित नहीं है।
1, 5, 10, 37, 101, 226, 442, 785, 1297

- Ans
- A. 37
 - B. 5
 - C. 785
 - D. 226

INDIA

Question ID : 630680177824
Status : Not Answered
Chosen Option : --

Q.24 यदि कल के बाद पांचवां दिन रविवार है, तो सप्ताह का कौन सा दिन कल से पहले दूसरा दिन होगा?

- Ans
- A. शनिवार
 - B. शुक्रवार
 - C. सोमवार
 - D. गुरुवार

Question ID : 630680177804
Status : Answered
Chosen Option : A

Q.25 दी गई अक्षर श्रृंखला का संदर्भ लें और नीचे दिए गए प्रश्न का उत्तर दें।
(बाएं) VFIURDCSECRDCFFHTGOABNBGUAP (दाएं)
ऐसे कितने स्वर हैं जिनके ठीक बाद में और ठीक पहले एक व्यंजन है? (केवल बाएं से दाएं गिनने पर विचार करें।)

- Ans A. 3
 B. 2
 C. 1
 D. 0

Question ID : 630680177808
Status : Answered
Chosen Option : C

Section : Quantitative Aptitude

Q.1 A और B, किसी कार्य को क्रमशः 10 दिन और 15 दिन में कर सकते हैं। वे एक साथ 3 दिन तक कार्य करते हैं तथा फिर B कार्य छोड़ देता है। A, शेष कार्य को अकेले पूरा करता है। संपूर्ण कार्य कितने दिनों में समाप्त होगा?

- Ans A. 6
 B. 8
 C. 5
 D. 7

Question ID : 630680177845
Status : Answered
Chosen Option : B

Q.2 किसी कक्षा में, ग्रामीण और शहरी विद्यार्थियों का अनुपात 4 : 9 है। किसी परीक्षा में, ग्रामीण और शहरी विद्यार्थियों के औसत प्रतिशत अंक क्रमशः 75% और 68% हैं। कक्षा का संपूर्ण औसत प्रतिशत अंक (दो दशमलव स्थान तक सही) कितना है?

- Ans A. 62.75
 B. 72.25
 C. 70.15
 D. 67.25

Question ID : 630680177834
Status : Answered
Chosen Option : B

Q.3 $\frac{5}{9}$, $\frac{7}{11}$, $\frac{8}{15}$ और $\frac{11}{17}$ में से सबसे बड़े और सबसे छोटे भिन्न के बीच का अंतर कितना है?

- Ans
- A. $\frac{29}{255}$
 - B. $\frac{8}{99}$
 - C. $\frac{17}{165}$
 - D. $\frac{1}{45}$

Question ID : 630680177828

Status : Answered

Chosen Option : C

Q.4 40 dm (Decimetre) चौड़ी और 16 dm (Decimetre) गहरी नहर में जल, 15 km/h के वेग से प्रवाहित हो रहा है। यदि सिंचाई के लिए 12 cm अप्रवाही जल (standing water) की आवश्यकता होती है, तो यह 30 min में कितने क्षेत्र (m² में) की सिंचाई करेगी?

- Ans
- A. 2,40,000
 - B. 4,80,000
 - C. 3,20,000
 - D. 4,00,000

Question ID : 630680177851

Status : Not Answered

Chosen Option : --

Q.5 कोई व्यक्ति अपने मासिक वेतन का 25% घर के किराए पर खर्च करता है तथा शेष वेतन का दो-तिहाई, भोजन और परिवहन पर खर्च करता है। यदि वह प्रति माह ₹5,000 बचाता है, तो उसका मासिक वेतन (₹ में) ज्ञात कीजिए।

- Ans
- A. 50,000
 - B. 40,000
 - C. 45,000
 - D. 42,000

Question ID : 630680177837

Status : Answered

Chosen Option : B

Q.6 यदि 8 अंकों वाली एक संख्या $1a9759b0$, 108 से विभाज्य है, तो $(7a + 3b)$ का अधिकतम मान ज्ञात कीजिए।

- Ans
- A. 66
 - B. 60
 - C. 72
 - D. 81

Question ID : 630680177830

Status : Answered

Chosen Option : C

Q.7 कोई रेलगाड़ी X, विपरीत दिशा में चल रही किसी दूसरी रेलगाड़ी Y को 15 sec में पार करती है। रेलगाड़ी Y की चाल 72 km/h है तथा रेलगाड़ी Y की लंबाई, रेलगाड़ी X की लंबाई की 80% है। यदि रेलगाड़ी X, 16 m/sec की चाल से चलती है, तो रेलगाड़ी X की लंबाई (m में) ज्ञात कीजिए।

- Ans A. 280
 B. 350
 C. 300
 D. 240

Question ID : 630680177843

Status : Not Answered

Chosen Option : --

Q.8 रवि और राजू, किसी कार्य को अलग-अलग क्रमशः 12 दिन और 20 दिन में कर सकते हैं। यदि वे वैकल्पिक दिनों में कार्य करते हैं, जिसमें रवि पहले कार्य शुरू करता है, तो वे संपूर्ण कार्य को कितने दिन में पूरा करेंगे?

- Ans A. 14.8
 B. 15.4
 C. 15.2
 D. 14.3

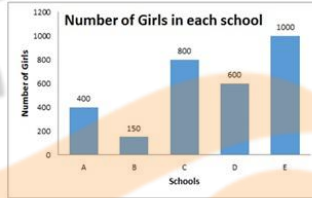
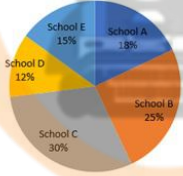
Question ID : 630680177846

Status : Answered

Chosen Option : A

Q.9 निम्नलिखित पाई चार्ट और दंड आरेख का अध्ययन करके निम्नलिखित प्रश्न का उत्तर दीजिए। विद्यार्थियों की कुल संख्या = 7500।

5 विभिन्न विद्यालयों में विद्यार्थियों का बंटन।



number of girls in each school = प्रत्येक विद्यालय में लड़कियों की संख्या

number of girls = लड़कियों की संख्या, schools = विद्यालय

School A 18% = विद्यालय A 18%, School B 25% = विद्यालय B 25%

School C 30% = विद्यालय C 30%, School D 12% = विद्यालय D 12%

School E 15% = विद्यालय E 15%

विद्यालय D और E में लड़कियों की संख्या, विद्यालय A और B में लड़कों की संख्या का कितना प्रतिशत है?

(अनुमानित प्रतिशत की गणना कीजिए।)

- Ans A. 52%
 B. 48%
 C. 54%
 D. 60%

Question ID : 630680177849

Status : Answered

Chosen Option : B

Q.10 किसी इंजीनियरिंग विद्यार्थी को उत्तीर्ण होने के लिए 45% अंक प्राप्त करने हैं। वह 157 अंक प्राप्त करता है और 23 अंकों से अनुत्तीर्ण हो जाता है। पूर्णांक ज्ञात कीजिए।

- Ans A. 420
 B. 400
 C. 450
 D. 350

Question ID : 630680177835
Status : Answered
Chosen Option : B

Q.11 तीन बाइक, A, B और C, एक साथ और समान स्थान से और समान दिशा में एक वृत्ताकार पथ पर दौड़ना शुरू करती हैं। A, एक चक्कर 56 sec में, B, 48 sec में और C, 70 sec में पूरा करती है। कितने समय बाद वे फिर से शुरूआती बिंदु पर मिलेंगी?

- Ans A. 20 min
 B. 32 min
 C. 28 min
 D. 36 min

Question ID : 630680177829
Status : Answered
Chosen Option : A

Q.12 पाइप A, किसी टंकी को 12 hrs में भर सकता है। पाइप B, उसी टंकी को 16 hrs में भर सकता है। पाइप C, भरी हुई टंकी को 24 hrs में खाली कर सकता है। पाइप A, B और C में से प्रत्येक को एकांतर क्रम में 1 hrs के लिए खोला जाता है। यदि B को पहले खोला जाता है, तो खाली टंकी को भरने में उन्हें कितने घंटे का समय लगेगा?

- Ans A. 29
 B. 28
 C. 30
 D. 27

Question ID : 630680177847
Status : Answered
Chosen Option : B

Q.13 कोई दुकानदार, दो वस्तुएं बेचता है। पहली वस्तु का विक्रय मूल्य, दूसरी वस्तु के क्रय मूल्य के बराबर है। वह पहली वस्तु को 25% के लाभ पर बेचता है और दूसरी वस्तु को 12% की हानि पर बेचता है। कुल लाभ या हानि प्रतिशत कितना है?

Ans

A. हानि, $4\frac{4}{9}$

B. हानि, $3\frac{3}{9}$

C. लाभ, $4\frac{4}{9}$

D. लाभ, $3\frac{3}{9}$

Question ID : 630680177838

Status : Not Answered

Chosen Option : --

Q.14 8 क्रमागत सम संख्याओं का औसत ज्ञात कीजिए, यदि उनमें से सबसे छोटी संख्या k द्वारा निर्दिष्ट की जाती है।

Ans

A. 7k

B. k + 8

C. k + 7

D. 8k

Question ID : 630680177831

Status : Answered

Chosen Option : B

Q.15 स्थिर जल में, किसी मोटरबोट की चाल 16 km/h है। इसे धारा की विपरीत दिशा में 36 km जाने में, धारा की दिशा में समान स्थान पर लौटने की तुलना में 72 min अधिक समय लगता है। धारा की चाल (km/h में) ज्ञात कीजिए।

Ans

A. 8

B. 10

C. 4

D. 5

Question ID : 630680177844

Status : Not Answered

Chosen Option : --

Q.16 किसी कक्षा के 42 विद्यार्थियों का औसत वजन 35.5 kg है। यदि किसी शिक्षक का वजन भी शामिल कर लिया जाए, तो औसत वजन में 750 g की वृद्धि होती है। शिक्षक का वजन (kg में) कितना है?

Ans

A. 60.50

B. 67.75

C. 72.75

D. 64.25

Question ID : 630680177832

Status : Answered

Chosen Option : C

Q.17 निम्नलिखित तालिका किसी विद्यालय के पांच विद्यार्थियों द्वारा पांच विभिन्न विषयों में प्राप्त अंक और प्रत्येक विषय के पूर्णांक को दर्शाती है।

विषय / विद्यार्थी	A	B	C	D	E
हिंदी (100)	96	56	45	91	75
अंग्रेजी(150)	126	114	90	85	76
गणित (200)	180	108	100	110	150
विज्ञान (150)	145	56	70	140	120
सामाजिक अध्ययन (100)	90	60	48	80	80

सभी विद्यार्थियों द्वारा गणित और हिंदी में समेकित रूप से प्राप्त औसत अंक कितने हैं?

- Ans A. 205.5
 B. 202.2
 C. 196.6
 D. 192.4

Question ID : 630680177848

Status : Answered

Chosen Option : B

Q.18 यदि किसी निश्चित राशि पर चक्रवृद्धि ब्याज ,12% वार्षिक चक्रवृद्धि ब्याज दर से 2 वर्ष के लिए ₹3,688.8 है, तो राशि (₹ में) ज्ञात कीजिए।

- Ans A. 15,000
 B. 14,000
 C. 13,500
 D. 14,500

Question ID : 630680177842

Status : Answered

Chosen Option : D

Q.19 किसी शहर की जनसंख्या 9,000 थी। 1 वर्ष में, पुरुष जनसंख्या में 10% की वृद्धि हुई और महिला जनसंख्या में 8% की वृद्धि हुई, लेकिन कुल जनसंख्या में 9% की वृद्धि हुई। शहर में बढ़ी हुई महिला जनसंख्या ज्ञात कीजिए।

- Ans A. 4,950
 B. 4,750
 C. 4,860
 D. 4,500

Question ID : 630680177836

Status : Answered

Chosen Option : B

Q.20 समान विमाओं वाले दो टिनों का $\frac{1}{5}$ और $\frac{1}{6}$ भाग अम्ल से भरा हुआ है। यदि टिनों के शेष भागों को जल से भर दिया जाता है तथा परिणामी सामग्री को एक टंबलर में मिलाया जाता है। टंबलर में अम्ल की कितनी मात्रा (units) मिलाई जानी चाहिए, ताकि परिणामी विलयन में अम्ल और जल का अनुपात 1 : 1 हो जाए?

- Ans
- A. 32
 - B. 30
 - C. 35
 - D. 38

Question ID : 630680177841
Status : Answered
Chosen Option : B

Q.21 240 km की किसी यात्रा में, एक बस 75 km/h की चाल से 150 km की दूरी तय करती है, 100 km/h की चाल से अगली 60 km की दूरी और 75 km/h की चाल से शेष दूरी तय करती है। संपूर्ण यात्रा में बस की औसत चाल (km/h में) ज्ञात कीजिए।

- Ans
- A. 75
 - B. 70
 - C. 78
 - D. 80

Question ID : 630680177833
Status : Answered
Chosen Option : D

Q.22 रवि और प्राकेश, किसी कॉलेज के अनुदान संचय समारोह के लिए फल बेच रहे हैं। ग्राहक सेब के छोटे बॉक्स और सेब के बड़े बॉक्स खरीद सकते हैं। रवि, कुल ₹102 में सेब के 4 छोटे बॉक्स और सेब के 5 बड़े बॉक्स बेचता है। प्राकेश, कुल ₹182 में सेब के 7 छोटे बॉक्स और सेब के 9 बड़े बॉक्स बेचता है। सेब के दो छोटे बॉक्स की कीमत ज्ञात कीजिए?

- Ans
- A. 28
 - B. 14
 - C. 16
 - D. 12

Question ID : 630680177850
Status : Answered
Chosen Option : C

Q.23
$$\frac{3\frac{2}{5} \div 5\frac{2}{3} \text{ of } \frac{1}{5} - \left(2\frac{1}{4} \div \frac{2}{3} \text{ of } \frac{9}{8}\right)}{(2.0\bar{6} \div 0.7\bar{6}) \text{ of } \frac{3}{5} + 0.2}$$
 का मान ज्ञात कीजिए।

- Ans
- A. 0
 - B. 0.2
 - C. $\frac{2}{3}$
 - D. 2.06

Question ID : 630680177827
Status : Answered
Chosen Option : A

Q.24 कोई व्यापारी, ₹1,050 में सामान खरीदता है और उसी दिन उन्हें ₹1,228.5 में 10 महीने के क्रेडिट पर बेच देता है, इस प्रकार उसे 4% का लाभ प्राप्त होता है। वार्षिक ब्याज दर कितनी है?

- Ans
- A. 18%
 - B. 20%
 - C. 15%
 - D. 12%

Question ID : 630680177839

Status : Not Answered

Chosen Option : --

Q.25 दो कजिन्स (cousins) की वर्तमान आयु का अनुपात 3 : 4 है। 4 वर्ष बाद, उनकी आयु का अनुपात 10 : 13 हो जाएगा। 6 वर्ष बाद, दोनों कजिन्स की आयु का अनुपात ज्ञात कीजिए।

- Ans
- A. 9 : 7
 - B. 7 : 9
 - C. 11 : 14
 - D. 11 : 15

Question ID : 630680177840

Status : Answered

Chosen Option : B



INDIA